

E-mail(ผู้ดูแล) อ.จิราภรณ์
citycathunter@gmail.com

GOOGLE CLASSROOM

ตรวจงานและกรอกคะแนนนักศึกษา

Line : citycathunter

FB : Jiraporn thongsu

Tel : 091-8281617

3 ขั้นตอนง่ายๆ



1. เข้าชั้นเรียน



2. ตรวจสอบและ

แบบทดสอบ



3. บันทึกคะแนน



Google Classroom

1. เข้าชั้นเรียนที่สอน

การติดตั้งไฟฟ้าในและนอกรอาคาร Course 124
ปวส.1 course 124 ชฟ.

สมัครเรียน

งานของชั้นเรียน

ผู้คน

คะแนน

2.คลิกแท็บ คะแนน

การติดตั้งไฟฟ้าในและนอกรอาคาร Course 124
ปวส.1 course 124 ชฟ.
รหัสของชั้นเรียน ofzxxw5 []

เลือกธีม
อัปโหลดรูปภาพ



Chanapollakhan Technological College



Google Classroom

☰ การติดตั้งไฟฟ้าในและนอกอาคาร Course 124
ปวส.1 course 124 ชฟ.

สมัคร งานของชั้นเรียน ผู้คน **คะแนน**

เรียงตามนามสกุล	ไม่มีวันที่คร... แบบ ทดสอบ... จาก 10	ไม่มีวันที่คร... แบบ ทดสอบ... / 16	ไม่มีวันที่คร... การติดตั้ง ไฟฟ้าอ...	ไม่มีวันที่คร... หน่วยที่4 การใช้ท่อ...	
คะแนนเฉลี่ยของชั้นเรียน			N/A	N/A	
Kannapat Chanaklang	___/10	___/16			
piinz Imz					
Chanawat Phongklee					
Sgt.Nattawut Photong	___/10	___/16			
suphawit srithong					
อนงค์ กล้าพึงเทียม					

1. จะพบหน้าให้กรอกคะแนน
2. เลือกดูแบบทดสอบ (ตามตัวอย่าง)



Chanapollakhan Technological College



Google Classroom

การติดตั้งไฟฟ้าในและนอกรอาคาร Course 124
ปวส.1 course 124 ซฟ.

คำสั่ง งานของนักเรียน

ส่งคืน 10 คะแนน

นักเรียนทั้งหมด

เรียงตามสถานะ

ส่งแล้ว

Kannapat Chanaklang ___/10

Sgt.Nattawut Photong ___/10

มอบหมายแล้ว

piinz Imz

Chanawat Phongklee

แบบทดสอบหน่วยที่ 5 การติดตั้งไฟฟ้านอกรอาคาร

2 ส่งแล้ว 10 มอบหมายแล้ว

Blank Quiz Google ไฟฟ้า

ทั้งหมด

Kannapat Chanaklang ส่งแล้ว	Sgt.Nattawut Photong ส่งแล้ว	piinz Imz มอบหมายแล้ว	Chanawat Phongklee มอบหมายแล้ว
suphawit srithong มอบหมายแล้ว	อนงค์ กล้าพึ่งเทียม มอบหมายแล้ว	อำพล กล้าพึ่งเทียม มอบหมายแล้ว	นิศากร เจริญประโยชน์ มอบหมายแล้ว

1. จะพบหน้าแสดงการเข้า
บทเรียนของผู้เรียน
2. คลิกที่แบบทดสอบคะ



Chanapollakhan Technological College



Google Classroom

rs/d/e/1FAIpQLSFjkRthY8O86xZXtbPirr30jip1aGqRO93Fn28QOyfeP_G6-w/viewform

Blank Quiz


ลูกถ้วยที่ใช้ในการติดตั้งไฟฟ้ามีกี่ชนิด 1 คะแนน

- 3
- 4
- 5
- 6

ลูกถ้วยสำหรับใช้รองรับสายเมนเข้าตัวอาคารได้แก่ข้อใด 1 คะแนน

- ลูกถ้วยแขวน
- ลูกถ้วยลูกดอก
- ลูกถ้วยก้านตรง
- ลูกถ้วยมะเฟือง

แก้ไขแบบฟอร์มนี้



1. คลิกแก้ไขตามลูกศรคะ



Chanapollakhan Technological College



Google Classroom



ส่ง



คำถาม

การตอบกลับ 8

คะแนนรวม 10

Blank Quiz

คำอธิบายแบบฟอร์ม



1. คลิกตามลูกศรคะ



Chanapollakhan Technological College



Google Classroom



คำถาม

การตอบกลับ 8

คะแนนรวม 10

Blank Quiz

คำอธิบายแบบฟอร์ม

1. คลิกตามลูกศรคะ
2. เลือกแยกรายการ

คำถาม

การตอบกลับ 8

คะแนนรวม 10

คำตอบ 8 ข้อ



เปิดรับคำตอบ

ข้อมูลสรุป

คำถาม

แยกรายการ

ข้อมูลเชิงลึก



Chanapollakhan Technological College



Google Classroom

1. คลิกเพื่อเลื่อนดูคะแนนแต่ละคน
(ตัวอย่างมีคนทำส่ง 8 คน)
2. แสดงชื่อ หรือ อีเมลล์ของผู้เรียน
(ถ้าในแบบทดสอบสร้างให้ใส่
นะค่ะ)
3. แสดงคะแนนที่ทำได้ จาก
คะแนนเต็ม
4. แสดงเวลาที่ผู้เรียนเข้าส่ง (ถ้า
ไม่ทราบชื่อในแบบทดสอบนะค่ะ)

คำถาม การตอบกลับ 8 คะแนนรวม 10

คำตอบ 8 ข้อ

เปิดรับคำตอบ

ข้อมูลสรุป คำถาม แยกรายการ

< 1 จาก 8 >

7 จาก 10 คะแนน

ประกาศคะแนนใน 1 เม.ย. 13:21

Blank Quiz





Google Classroom

☰ การติดตั้งไฟฟ้าในและนอกรอาคาร Course 124
ปวส.1 course 124 ชฟ.

สมัคร งานของชั้นเรียน ผู้คน คะแนน

เรียงตามนามสกุล	ไม่มีวันที่ครบ... แบบทดสอบ... จาก 10	ไม่มีวันที่ครบ... แบบทดสอบ... จาก 16	ไม่มีวันที่ครบ... การติดตั้ง ไฟฟ้าอ...	ไม่มีวันที่ครบ... หน่วยที่4 การใช้ทอ...
คะแนนเฉลี่ยของชั้นเรียน			N/A	N/A
Kannapat Chanaklang	___/10 ⋮	___/16		
piinz Imz				
Chanawat Phongklee				
Sgt.Nattawut Photong	___/10	___/16		
suphawit srithong				
อนงค์ กล้าพึ่งเทียม				

1. นำคะแนนมากรอกใน
หน้านี้ เพื่อบันทึก
คะแนนเก็บต่อไป
2. แล้ว คลิก จุดๆ เพื่อแจ้ง
คะแนนกลับไปให้ผู้เรียน
ได้ทราบ





Google Classroom

☰ การติดตั้งไฟฟ้าในและนอกรอาคาร Course 124
ปวส.1 course 124 ชฟ.

สมัคร งานของชั้นเรียน ผู้คน คะแนน

เรียงตามนามสกุล	ไม่มีวันที่คร... แบบ ทดสอบ... จาก 10	ไม่มีวันที่คร... แบบ ทดสอบ... จาก 16	ไม่มีวันที่คร... การติดตั้ง ไฟฟ้าอ...	ไม่มีวันที่คร... หน่วยที่4 การใช้ทอ...
คะแนนเฉลี่ยของชั้นเรียน			N/A	N/A
Kannapat Chanaklang	___/10	___/16		
piinz Imz				
Chanawat Phongklee				
Sgt.Nattawut Photong	___/10	___/16		
suphawit srithong				
อนงค์ กล้าพึงเทียม				

ตรวจงานในใบงาน

1. คลิกเลือกที่ใบงาน
2. กำหนดคะแนนแล้ว
3. ตรวจสอบว่าผู้เรียนส่งงานมาทางไหน
4. นำคะแนนมากรอกเช่นกัน





Google Classroom

ใบงานหน่วยที่ 3.4 การสื่อสารข้อมูล



Oppo F11Pro 10/10

ค้นหาเมนู (Alt+)

100% ข้อความปกติ Angsana N... 18

← ใบงานที่ 3.3 รูปแบบการสื่อสาร
ใบงานที่ 3.4 เครือข่ายคอมพิวเตอร์

ใบงานที่ 3.3 รูปแบบการสื่อสาร

คำชี้แจง ให้นักเรียนพิจารณาการสื่อสารที่กำหนด แล้วระบุรูปแบบและลักษณะการสื่อสารให้ถูกต้อง

- 1.) การแพร่ภาพทางโทรทัศน์
รูปแบบ เป็นการสื่อสารข้อมูลทางเดียว (Simplex Transmission)
ลักษณะการสื่อสาร คือ ผู้ส่งจะส่งข้อมูลเพียงฝั่งเดียวและ โดยฝั่งรับไม่มีการตอบกลับ
- 2.) การแจ้งข้อมูลทางวิทยุ
รูปแบบ เป็นการสื่อสารข้อมูลสองทิศทางสลับกัน (Half Duplex Transmission)
ลักษณะการสื่อสาร เป็นการสื่อสาร 2 ทิศทางแต่คนละเวลา
- 3.) การสนทนาทางโทรศัพท์
รูปแบบ เป็นการสื่อสารข้อมูลสองทิศทางพร้อมกัน (Full Duplex Transmission)
ลักษณะการสื่อสาร เป็นการสื่อสาร 2 ทิศทางโดยสามารถส่งข้อมูลในเวลาเดียวกันได้

ใบงานที่ 3.4 เครือข่ายคอมพิวเตอร์

ตัวอย่างนี้ ผู้เรียนส่งงานแนบไฟล์

1. เมื่อครูตรวจแล้ว
2. กำหนดคะแนนแล้ว
3. ตรวจสอบว่าผู้เรียนส่งงานมาทางไหน
4. นำคะแนนมากรอกเช่นกัน





Google Classroom

	สตรีม	งานของชั้นเรียน	ผู้คน	คะแนน		
เรียงตามนามสกุล ▼	29 เม.ย. หน่วยที่ 7 การติดตั้ง... จาก 20	26 เม.ย. หน่วยที่ 8 ระบบปฏิบัติ... จาก 20	2 เม.ย. แบบ ประเมินค... จาก 20	26 เม.ย. ใบงานที่ 6 เรื่อง IP... จาก 10	26 เม.ย. ใบงาน หน่วยที่ 3... จาก 10	
คะแนนเฉลี่ยของชั้นเรียน			15		10	
Oppo F11Pro			15		10/10	

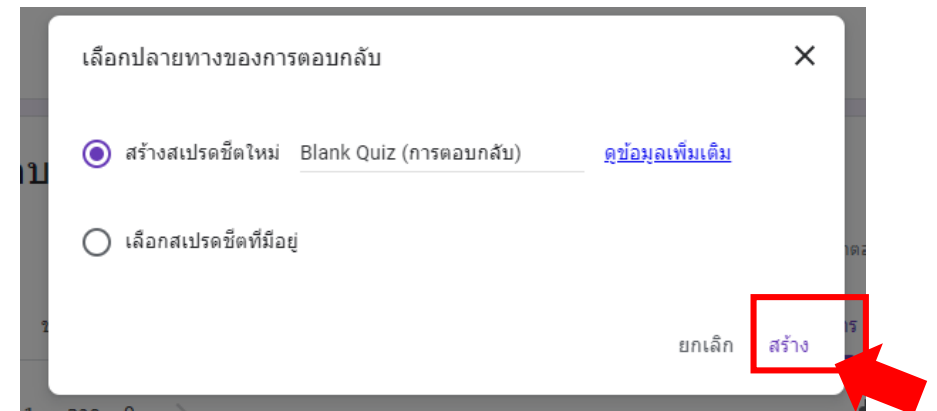
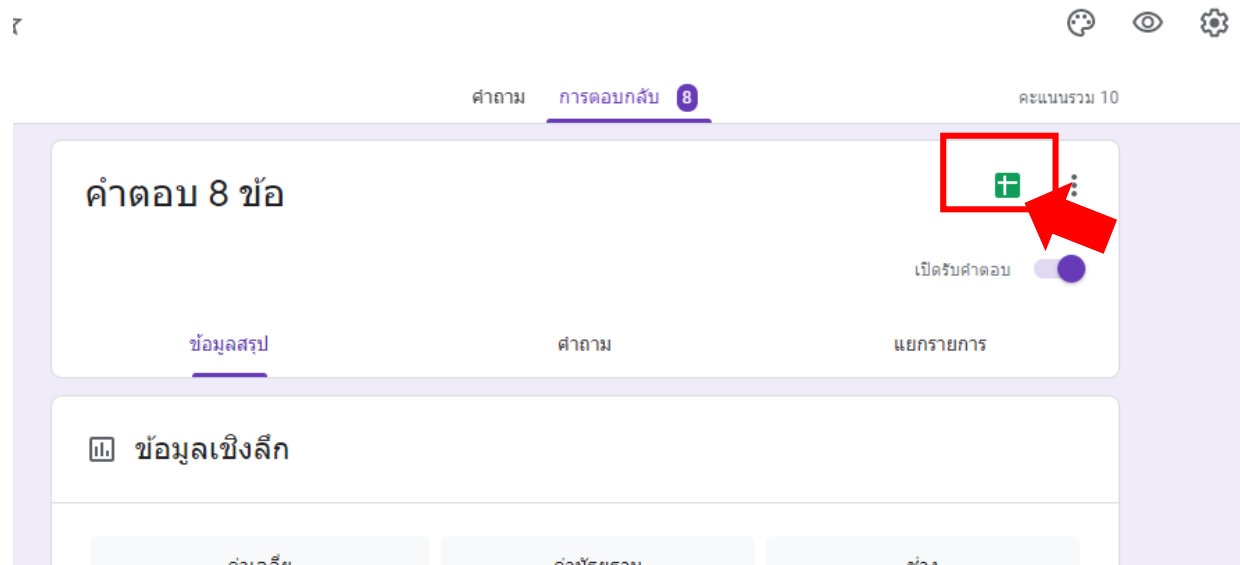
1. ฆากรอกที่หน้านี้ และ
แจ้งคะแนนกลับผู้เรียน
ทราบต่อไป





Google Classroom

ผู้สอนสามารถโหลดคะแนนมาเก็บไว้กรอก หรือ ตรวจสอบภายหลังได้ดังนี้



Chanapollakhan Technological College



Google Classroom

ได้ Google Sheet ขึ้นมา (คล้ายตารางเอ็กเซล)

Blank Quiz (การตอบกลับ) ☆

ไฟล์ แก้ไข ดู แทรก รูปแบบ ข้อมูล เครื่องมือ แบบฟอร์ม ส่วนเสริม ความช่วยเหลือ บันทึกการเปลี่ยนแปลงทั้งหมดไว้ในไดรฟ์แล้ว

100% B % .0 .00 123 ค่าเริ่มต้น (A... 10 B I A

fx	ประหับเวลา									
	A	B	C	D	E	F	G	H	I	
1	ประหับเวลา	คะแนน	ลูกถ้วยที่ใช้ในกา	ลูกถ้วยสำหรับใช้	ข้อใดคืออุปกรณ์	ในกรณีที่ไม่ม่แคล้มป์สำหรับ	เครื่องหมายหรือรายละเอียด	ตัวเลข 5 (15) ที่แสดงบนแม่	ข้อใดคือหน่วยวัดที่ใช้เรียกข	สายเส
2	1/4/2020, 13:21:17	7 / 10	6 ลูกถ้วยลูกรอก	แคล้มป์ลูกตาล	ลวดลومیเนียมกลม	ชนิดของฉนวน	กระแสไฟฟ้ามูลฐาน 5 แอมแ	Circular mil	Neutr	
3	1/4/2020, 13:24:21	10 / 10	6 ลูกถ้วยลูกรอก	พีจีแคล้มป์	ลวดลومیเนียมกลม	ชนิดของฉนวน	กระแสไฟฟ้ามูลฐาน 5 แอมแ	Circular mil	Neutr	
4	2/4/2020, 22:15:23	2 / 10	4 ลูกถ้วยก้านตรง	พีจีแคล้มป์	ยางยึด	ชนิดของฉนวน	กระแสไฟฟ้ามูลฐาน 5 แอมแ	Square cen	ระหว่า	
5	2/4/2020, 22:17:44	9 / 10	6 ลูกถ้วยลูกรอก	พีจีแคล้มป์	ลวดลومیเนียมแบน	ชนิดของฉนวน	กระแสไฟฟ้ามูลฐาน 5 แอมแ	Circular mil	Neutr	
6	2/4/2020, 22:18:23	10 / 10	6 ลูกถ้วยลูกรอก	พีจีแคล้มป์	ลวดลومیเนียมกลม	ชนิดของฉนวน	กระแสไฟฟ้ามูลฐาน 5 แอมแ	Circular mil	Neutr	
7	2/4/2020, 22:19:23	10 / 10	6 ลูกถ้วยลูกรอก	พีจีแคล้มป์	ลวดลومیเนียมกลม	ชนิดของฉนวน	กระแสไฟฟ้ามูลฐาน 5 แอมแ	Circular mil	Neutr	
8	2/4/2020, 22:20:14	9 / 10	ลูกถ้วยลูกรอก	พีจีแคล้มป์	ลวดลومیเนียมกลม	ชนิดของฉนวน	กระแสไฟฟ้ามูลฐาน 5 แอมแ	Circular mil	Neutr	
9	2/4/2020, 22:20:45	10 / 10	6 ลูกถ้วยลูกรอก	พีจีแคล้มป์	ลวดลومیเนียมกลม	ชนิดของฉนวน	กระแสไฟฟ้ามูลฐาน 5 แอมแ	Circular mil	Neutr	
10	4/4/2020, 16:00:00	6 / 10	ลูกถ้วยลูกรอก	ยูแคล้มป์	ลวดลومیเนียมกลม	ชนิดของฉนวน	กระแสไฟฟ้ามูลฐาน 5 แอมแ	Circular mil	Neutr	
11										
12										



Chanapollakhan Technological College

1. สังเกตในช่องสีแดง แสดงวันที่และเวลาที่ส่งผลสอบ และคะแนนที่ได้ของผู้เรียนแต่ละคนคะ